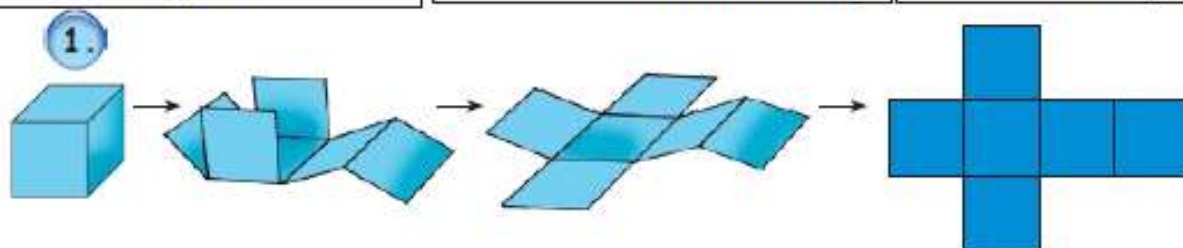
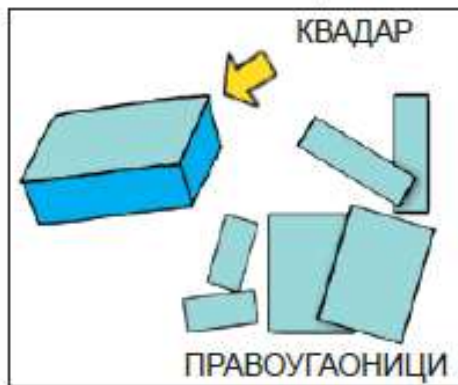
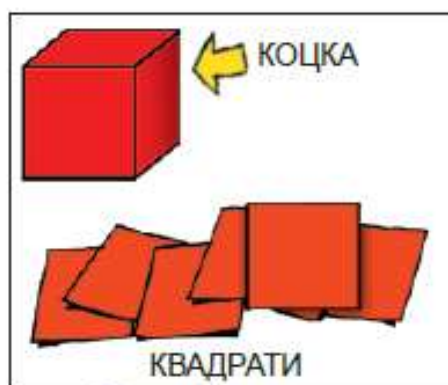
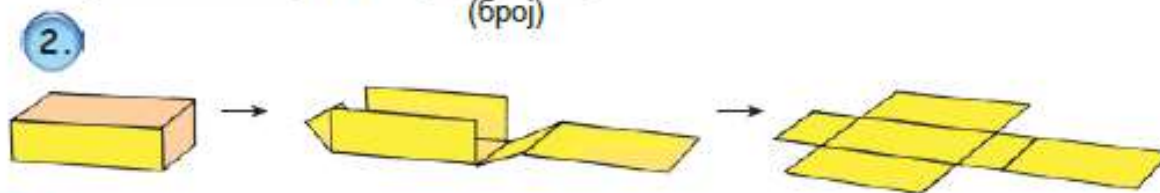


МРЕЖЕ МОДЕЛА КВАДРА И КОЦКЕ




Када раставимо коцку, уочавамо геометријске фигуре које се називају _____ и има их _____ (број)



Када раставимо квадар као што је приказано, уочавамо геометријске фигуре које називамо _____ и има их _____ (број)

3. Доврши цртање мреже коцке дужине ивице 25 mm.



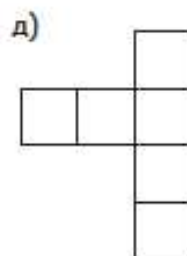
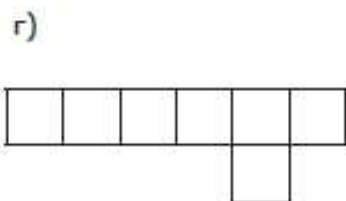
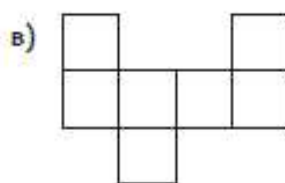
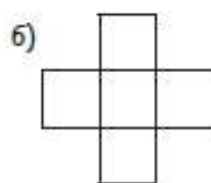
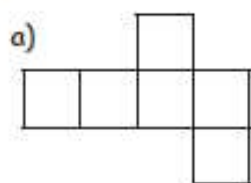
4. Доврши цртање мреже квадра чије су ивице ових дужина: 1 cm, 2 cm и 3 cm.



5. Нацртај у свесци мрежу коцке чија је ивица 3 cm.

6. Нацртај у свесци мрежу квадра чије су ивице следећих дужина: 15 mm, 25 mm и 35 mm.

7. Заокружи слово поред мреже коцке.



ИУНКО

Израчунај. Сложи карте.

