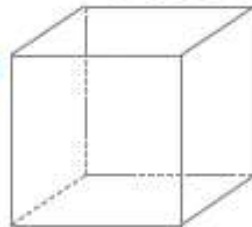


# ОСОБИНЕ И ЕЛЕМЕНТИ КОЦКЕ



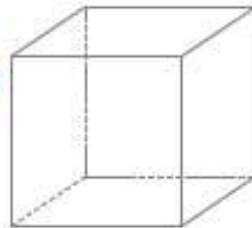
1.



Темена коцке означи плавом бојом. Колико темена има коцка?

\_\_\_\_\_

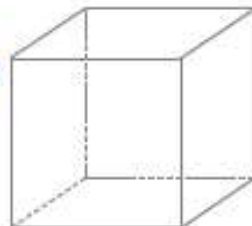
2.



Ивице коцке подебљај црвеном бојом. Колико ивица има коцка?

\_\_\_\_\_

3.



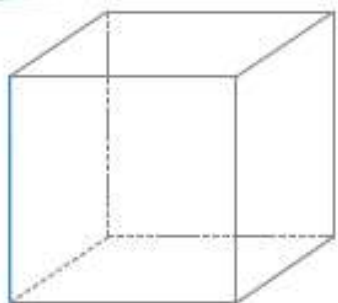
Три стране коцке обој различитим бојама. Колико страна има коцка?

\_\_\_\_\_

Колико је различитих боја потребно да обојиш све стране коцке?

\_\_\_\_\_

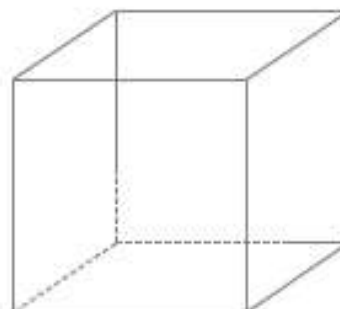
4.



Означи темена коцке. Све ивице које имају једнаку дужину као обојена ивица подебљај плавом бојом.

5.

Стране коцке обој жуто, темена означи црвено, а ивице подебљај плавом бојом.



6.

Марко је пишући састав о коцки неке речи и слова избрисао.

Допуни избрисано.

Коцка је \_\_\_\_\_ тело које има \_\_\_\_\_ темена, 12 \_\_\_\_\_ и \_\_\_\_\_ страна.

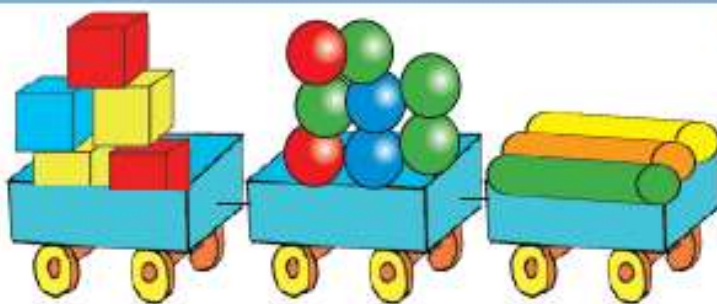
Стране коцке су \_\_\_\_\_.

Све ивице коцке једнаке \_\_\_\_\_.

Коцка је кв\_\_\_\_\_ коме су све ивице једнаке.



РАЧУНКО



а) Попуни табелу.

Комада	Назив	Цена 1 ком.	Укупно
	коцка	29 дин.	
	лопта	24 дин.	
	ваљак	69 дин.	

б) Попуни празне правоугаонике.

$$\begin{array}{r} 5\ 300 \\ + \quad 600 \\ \hline \end{array}$$

$$\begin{array}{r} 3\ 600 \\ + \quad \square \\ \hline 5\ 000 \end{array}$$

$$\begin{array}{r} 2\ 180 \\ - \quad 1\ 090 \\ \hline \square \end{array}$$

$$\begin{array}{r} \square \\ - \quad 320 \\ \hline 1\ 920 \end{array}$$

