


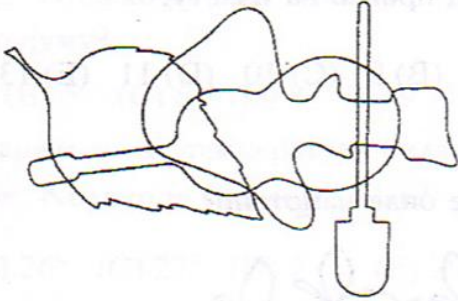
Мића и Тића су другарски поделили и појели три јабуке.

Колико је појео сваки дечак?

- (A) једну (B) једну ипо (C) две
(D) две ипо (E) три




Колико разних предмета можеш избројати на овој слици?



- (A) 3 (B) 4 (C) 5 (D) 6 (E) 7

Колико птица можеш избројати на овој слици?




- (A) 9 (B) 10 (C) 11 (D) 12 (E) 13

Ако у једну кућицу можемо да сместимо две куце, колико нам кућица треба за ову “дружину”?



- (A) 1 (B) 2 (C) 3 (D) 4 (E) 5

Има ли овде једнаких кишобрана? Колико?



(A) нема (B) има 2 (C) има 3 (D) има 4 (E) има 5

Колико још најмање птичица треба овде да долети да бисмо их разврстали у парове?



(A) 1 (B) 2 (C) 3 (D) 4 (E) 5

На десном тасу терзија су тегови од 2 kg и 3 kg. Колико је тежак меда?

(A) 2 (B) 3 (C) 4 (D) 5 (E) 6



Да би се играла у песку Сања је припремила 3 кофице, њена другарица Весна 2 кофице мање. Колико кофица је припремила Весна?

(A) 1 (B) 2 (C) 3 (D) 4 (E) 5

