

## Научили смо о оријентацији у окружењу и на плану

1. Шта је оријентација?

---

---

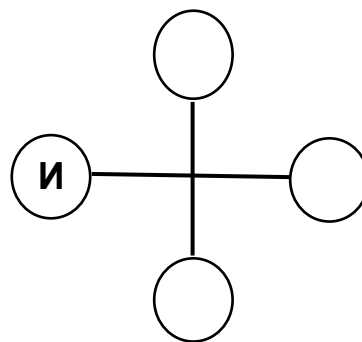
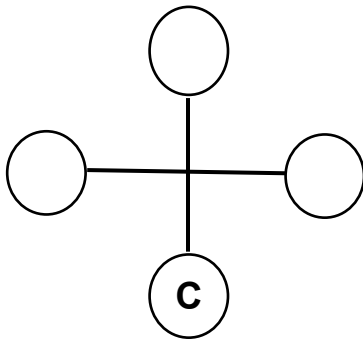
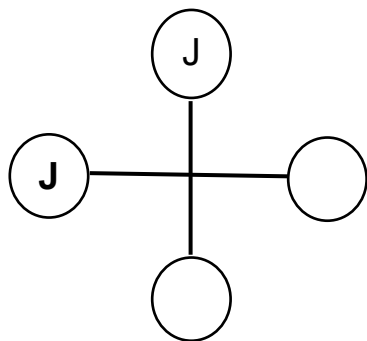
2. Повежи одговарајуће појмове:

север  
југоисток  
југозапад  
југ  
запад  
североисток

главне стране света

споредне стране света

3. У кружиће упиши одговарајуће слово како би одредио преостале стране света.



4. Помоћу чега се можемо оријентисати у природи? (Наведи пет примера.)

---

---

---

5. Доврши започете реченице:

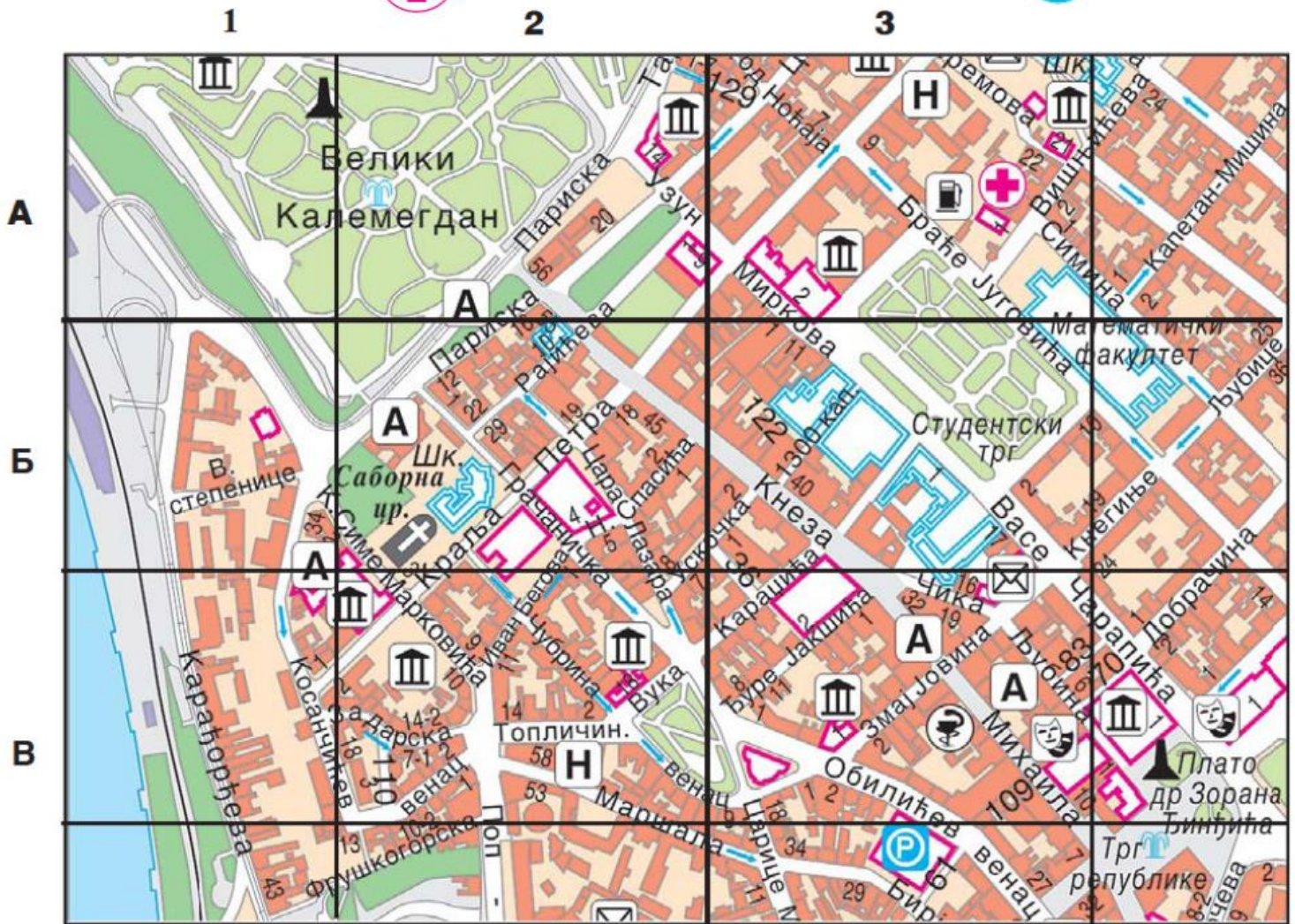
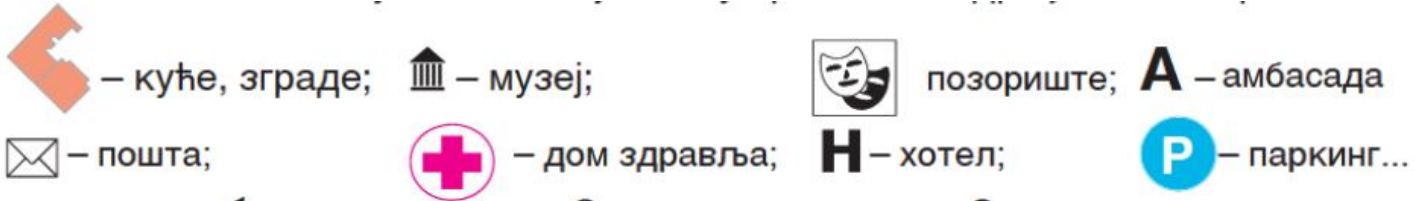
План насеља је \_\_\_\_\_

---

Размер је \_\_\_\_\_

---

6. Пажљиво проучи план насеља, па одговори на питања.



Чубрина улица је у квадрату В2. Пронађи је.



Који трг се налази у квадрату Б3? \_\_\_\_\_

У ком квадрату се налази дом здравља? \_\_\_\_\_

Које веће улице се налазе у квадрату В3? \_\_\_\_\_

\_\_\_\_\_