

СТАНДАРДИЗОВАНИ ТЕСТ ЗНАЊА ИЗ МАТЕМАТИКЕ

(провера усвојеност наставних садржаја обрађених у току првог разреда)

Име и презиме ученика: _____



1. Напиши речима бројеве.

13 _____ 58 _____
70 _____ 3. _____

1.1.MA.1.1.1.

2/

2.



Колико динара има Јелена?

_____ Одговор: _____

Ако Јелена потроши 40 динара, колико динара ће јој остати?

_____ Одговор: _____

1.1.MA.1.1.3. 1.1.MA.1.4.1.

2/

3. Израчунај.

$9 + 5 =$ _____ $13 - 8 =$ _____

$64 + 5 =$ _____ $98 - 3 =$ _____

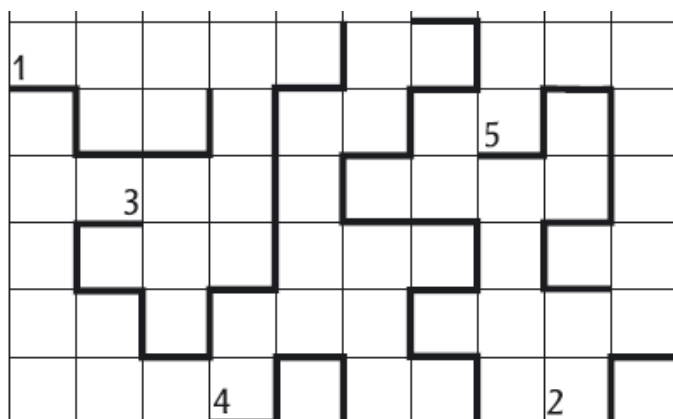
$70 - 7 =$ _____ $84 - 50 =$ _____

$24 + 45 =$ _____ $89 - 34 =$ _____

1.1.MA.1.1.2



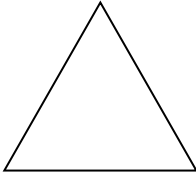
2/

4. Подебљај црвеном бојицом најдужу линију.



1.1.MA.1.2.3. 1.1.MA.1.2.2.

2/

<p>5. <u>Којој десетици</u> припадају следећи бојеви?</p> <p>34 _____</p> <p>17 _____</p> <p>70 _____</p> <p>89 _____</p>	<p>1.1.MA.2.1.2.</p>	<p>2/</p>
<p>6. <u>Заокружи</u> непарне бројеве.</p> <p>64 , 40, 65, 18, 36, 59, 82, 7</p> <p><u>Поређај</u> бројеве <u>од највећег до најмањег</u>.</p> <p>16, 68, 43, 27, 80, 75, 56</p> <p>___ > ___ > ___ > ___ > ___ > ___ > ___</p>	<p>1.1.MA.2.1.1.</p>	<p>2/</p>
<p>7. За колико је број 65 већи од претходника броја 24 ?</p> <p>_____</p>	<p>1.1.MA.2.1.3.</p>	<p>2/</p>
<p>8. Изнад троугла <u>нацртај тачку</u> и обележи је. У правоугаонику <u>нацртај праву линију</u>. Испод квадрата <u>нацртај отворену криву линију</u>.</p> <div style="display: flex; justify-content: space-around; align-items: center;"> <div style="text-align: center;">  </div> <div style="text-align: center;">  </div> <div style="text-align: center;">  </div> </div>	<p>1.1.MA.2.2.1</p> <p>1.1.MA.1.2.1.</p>	<p>2/</p>
<p>9. Ната, Мара и Теа имају заједно 20 књига. Ната има 9 књига, а Мара 3 књиге мање од Нате. Колико књига има Теа?</p> <p>Ната: _____</p> <p>Мара: _____</p> <p>Теа: _____</p> <p>Одговор: _____</p>	<p>1.1.MA.3.1.1.</p> <p>1.1.MA.3.1.2.</p>	<p>2/</p>
<p>10. Збир бројева 46 и 4 умањи за 20.</p> <p>_____</p>	<p>1.1.MA.3.1.</p>	<p>2/</p>
<p>Укупан број бодова: 20</p>	<p>Збир остварених бодова:</p>	<p>Процент постигнућа:</p>

