

ИНИЦИЈАЛНИ ТЕСТ ЗНАЊА ИЗ СВЕТА ОКО НАС

(провера усвојеност наставних садржаја обрађених у току првог разреда)

Име и презиме ученика: _____



1. Моје улоге у друштву су (повежи одговарајуће појмове)

ШКОЛА	комшија
	сестра
НАСЕЉЕ	ученик
	станар
	дете
ПОРОДИЦА	школски друг

2/___

2. Ко чини ужу породицу (заокружи слово испред тачног одговора):

- а) родитељи, бака, дека и деца
- б) ујак, тетка, родитељи и деца
- в) родитељи и деца

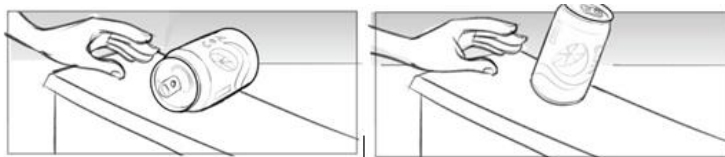
2/___

3. Испред назива дана у седмици напиши одговарајући редни број од 1. до 7., као што је започето.

1. понедељак ___ среда ___ недеља ___ уторак
 ___ четвртак ___ субота ___ петак

2/___

4. Обој лименку која клизи.



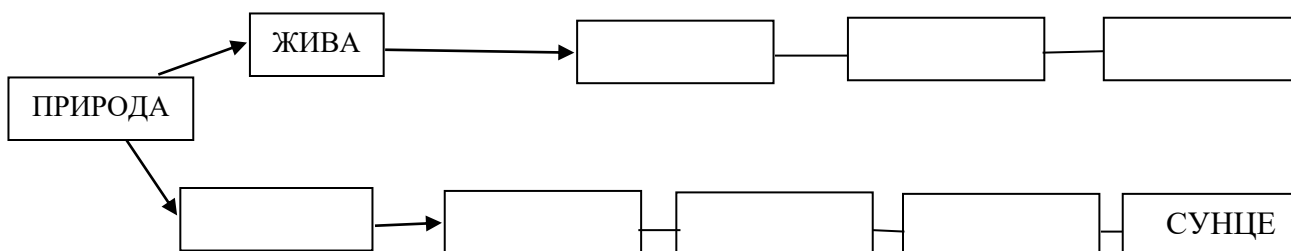
2/___

5. Прецртај материјале који се не растварају у води.

шећер пластика мед уље

2/___

6. Допуни правоугаонике одговарајућим појмовима.



2/___

7. Допуни реченице:

- а) Вода у чврстом стању назива се _____.
- б) Вода у гасовитом стању назива се _____.
- в) Вода у рекама и морима налази се у _____ стању.

2/___

8. Поред датих тврдњи заокружи Т ако је тачна и Н ако није тачна.

- а) Кружење ваздуха у природи назива се ветар. Т Н
- б) Чист ваздух има мирис и боју. Т Н
- в) Растресито земљиште има у себи више ваздуха. Т Н
- г) Сунце не утиче на раст и развој биљака. Т Н

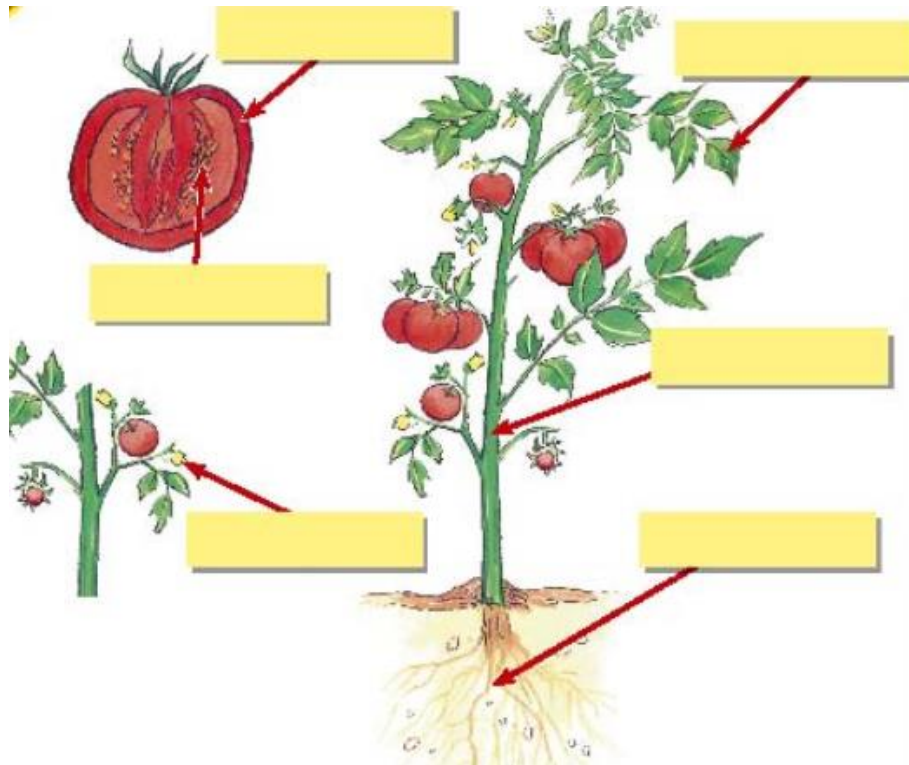
2/___

9. Наброј по две:

- а) домаће животиње: _____ и _____;
- б) дивље животиње: _____ и _____.

2/___

10. Упиши називе делова биљака.



2/___

Укупан број бодова: 20

Збир остварених бодова:

Процент постигнућа:

